

# MULTIPLICACIONES

MULTIPLICANDO (DECENA Y UNIDAD MAYOR DE 5) Y MULTIPLICADOR HASTA EL 5

Ayuda al extraterrestre a encontrar su nave siguiendo el camino con las soluciones de las operaciones..

$66 \times 2 =$

$67 \times 3 =$

$68 \times 2 =$

$69 \times 3 =$

$76 \times 3 =$

$77 \times 2 =$

$78 \times 3 =$


$79 \times 2 =$

$86 \times 2 =$

$87 \times 3 =$

$96 \times 2 =$

$97 \times 3 =$



Ayuda a los alienígenas a llegar a su nave. Para encontrar el camino resuelve las operaciones y coloréalas en los recuadros.

$38 \times 5 = \bigcirc$      $47 \times 5 = \bigcirc$      $26 \times 5 = \bigcirc$      $59 \times 5 = \bigcirc$


$28 \times 6 = \bigcirc$      $19 \times 6 = \bigcirc$      $37 \times 6 = \bigcirc$      $46 \times 6 = \bigcirc$

$47 \times 7 = \bigcirc$      $38 \times 7 = \bigcirc$      $59 \times 7 = \bigcirc$      $26 \times 7 = \bigcirc$

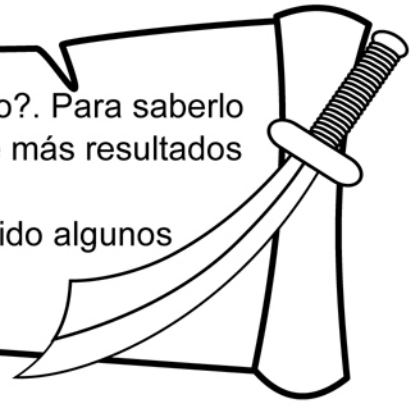
$56 \times 8 = \bigcirc$      $27 \times 8 = \bigcirc$      $19 \times 8 = \bigcirc$      $38 \times 8 = \bigcirc$

$19 \times 9 = \bigcirc$      $56 \times 9 = \bigcirc$      $48 \times 9 = \bigcirc$      $27 \times 9 = \bigcirc$

				180	202	615	354	325	
			→	190	235	540	400	242	
				150	115	130	295	180	
			101	414	180	202	555	168	
		540	325	329	276	222	114	615	
202	182	413	266	242	101	180	325	333	
448	115	333	202	542	615				
325	216	101	414	432	243				
615	152	400	504	115	242				
180	541	304	171	333	202				



¿Qué pirata se quedará con el barco?. Para saberlo haz las multiplicaciones y el pirata que más resultados correctos tenga, ese se lo llevará.  
Ten cuidado, ya que algunos piratas han metido algunos números que no son soluciones.



$58 \times 5 =$		$67 \times 5 =$		$76 \times 5 =$		$89 \times 5 =$	
$55 \times 6 =$		$69 \times 6 =$		$77 \times 6 =$		$86 \times 6 =$	
$57 \times 7 =$		$68 \times 7 =$		$75 \times 7 =$		$87 \times 7 =$	
$56 \times 8 =$		$65 \times 8 =$		$79 \times 8 =$		$88 \times 8 =$	
$59 \times 9 =$		$66 \times 9 =$		$78 \times 9 =$			

